

6°

Quelle est l'énergie qui fait fonctionner ces objets ?

ENERGIES







**ENERGIE =** .....

Un objet technique a besoin d'énergie pour fonctionner (produire un .....).

Les différentes formes d'énergie :

- 1 .....
- 2 .....
- 3 .....
- 4 .....
- 5 .....
- 6 .....
- 7 .....
- 8 .....
- 9 .....

Retrouve l'énergie nécessaire pour faire fonctionner les objets techniques suivants

<i>Nom de l'objet</i>	<i>Energie</i>	<i>Nom de l'objet</i>	<i>Energie</i>
 Baladeur		 Moulin	
 Charrette		 Char à voile	
 Réfrigérateur		 TGV	